

ERANTZUN-ORRIA DBHko 2.maila
EBALUAZIO DIAGNOSTIKOA 2011

2P1E

ETIKETA

UNA CASA CON ENCANTO

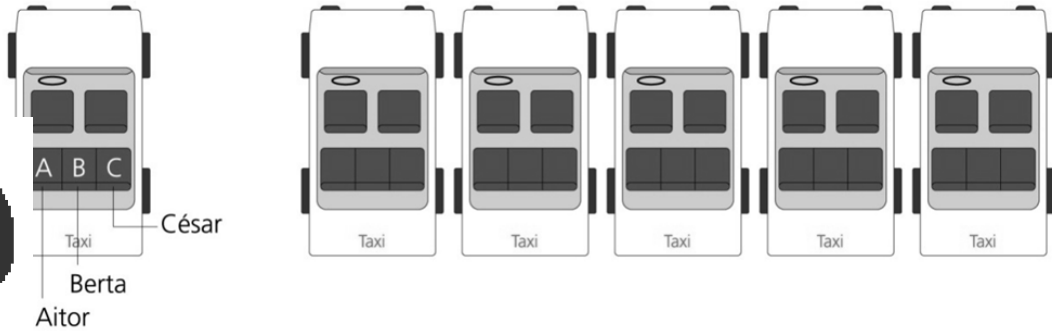
01	A	B	C	D
02	A	B	C	D
03	A	B	C	D
04	A	B	C	D
05	A	B	C	D
06	A	B	C	D
07	<p>Observa la frase <i>“las siete y aquellos pajarracos escandalosos dando ‘a tabarra’</i>. Señala todas las palabras en las que se refleja una opinión de la autora.</p> <p>-----</p> <p>-----</p>			
08	A	B	C	D



STOP DE PANDEMIC!

09	A	B	C	D
10	A	B	C	D
11	A	B	C	D

ESKOLA LEHIAKETA

12
Gainerako bost moduak osatu:


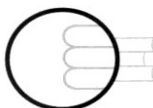
1			
2			
3			
4			
5			

13
Zenbat neurtzen du karratuaren aldeak?

Problema ebatzi eta adierazi egin dituzun eragiketak eta emaitza.

Eragiketak:

Emaitza: _____



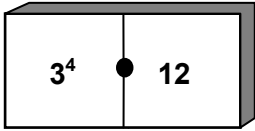
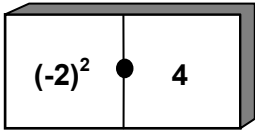
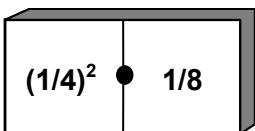
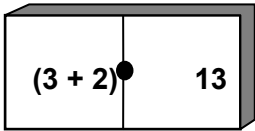
ISEI-IVEI

14

Osatu hurrengo esaldi hauek, bakoitzean gertatzen den egoera-aldaketaren izena aipatuz:

Erregistro bakoitzeko baieztapenak egiazkoak ala gezurrezkoak diren adierazi:



		Egiazkoa	Gezurrezkoa	
		3^4 berdin 12	<input type="checkbox"/>	<input type="checkbox"/>
B.		$(-2)^2$ berdin 4	<input type="checkbox"/>	<input type="checkbox"/>
C.		$(1/4)^2$ berdin 1/8	<input type="checkbox"/>	<input type="checkbox"/>
D.		$(3 + 2)^2$ berdin 13	<input type="checkbox"/>	<input type="checkbox"/>

15

22 eta 100 bitarteko zenbaki bakoiti guztiak idazten badituzu, zenbat aldiz idatziko duzu 6 zenbakia?

Buruketa ebatzi, zure arrazoiketak eta emaitza adieraziz.

Erregistroak:



Emaitza: _____

SANTO TOMAS AZOKA

16

A

B

C

D

17

A

B

C

D

18

A

B

C

D

19

A

B

C

D

20

A

B

C

D

21

A

B

C

D

22

EGIA ALA FALTSUA? Markatu "X" batez laukitxo egokia, adibidean bezala:



	EGIA	FALTSUA
Santo Tomas feriaz ari dira testu honetan.	<input checked="" type="checkbox"/>	<input type="checkbox"/>
a) Santo Tomas egunean ordaintzen zen arren, bere lagunaren errenta, Santo Tomas egunera arte luzatu ohi zen.	<input type="checkbox"/>	<input type="checkbox"/>
b) Santo Tomas eguna urteen arabera aldatu egiten da, Aste Santua bezala.	<input type="checkbox"/>	<input type="checkbox"/>
c) Abenduaren 21ean da Santo Tomas eta egun horretan egiten da feria.	<input type="checkbox"/>	<input type="checkbox"/>
d) Santo Tomas egunean baserritarrak hirira joaten ziren nagusiari lur-sailen errentak ordaintzera.	<input type="checkbox"/>	<input type="checkbox"/>
e) Santo Tomas egunean produktuen salerosketa egiten zen.	<input type="checkbox"/>	<input type="checkbox"/>
f) Feriak gaur egunera arte iraun du baserritarrek tradizio zaharra mantendu baitute.	<input type="checkbox"/>	<input type="checkbox"/>

23

A

B

C

D

MILA ESKER ZURE LANAGATIK