

HOJA DE RESPUESTAS **2º ESO**
EVALUACIÓN DIAGNÓSTICA 2011

2P1G

ETIQUETA

UNA CASA CON ENCANTO

01	A	B	C	D
02	A	B	C	D
03	A	B	C	D
04	A	B	C	D
05	A	B	C	D
06	A	B	C	D
07	<p>Observa la frase <i>“las siete y aquellos pajarracos escandalosos dando la ‘barra’</i>. Señala todas las palabras en las que se refleja una opinión de la autora.</p> <p>-----</p> <p>-----</p>			
08	A	B	C	D



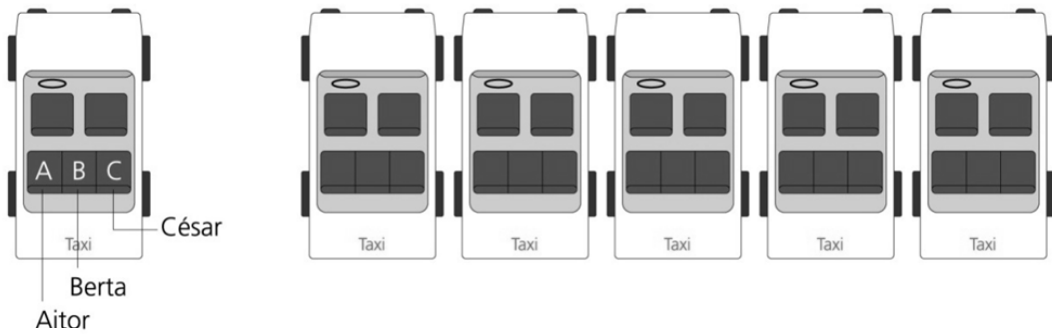
STOP DE PANDEMIC!

09	A	B	C	D
10	A	B	C	D
11	A	B	C	D

CONCURSO ESCOLAR

12

Completa en el esquema las otras cinco maneras:




1			
2			
3			
4			
5			

13

¿Cuánto mide el lado del cuadrado?

Resuelve el problema, expresando las operaciones que haces y la solución.

Operaciones:



solución: _____

14

Queremos comparar los números que aparecen en cuatro fichas de dominó.

Analiza si las siguientes afirmaciones son verdaderas o falsas:



		Verdadero	Falso	
		3^4 es igual a 12	<input type="checkbox"/>	<input type="checkbox"/>
B.		$(-2)^2$ es igual a 4	<input type="checkbox"/>	<input type="checkbox"/>
C.		$(1/4)^2$ es igual a $1/8$	<input type="checkbox"/>	<input type="checkbox"/>
D.		$(3 + 2)^2$ es igual a 13	<input type="checkbox"/>	<input type="checkbox"/>

15

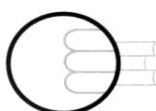
Si escribes todos los números impares entre el 22 y el 100, ¿cuántas veces escribes el número 6?

Resuelve el problema, expresando tus razonamientos y la solución.

Operaciones:




Solución: _____

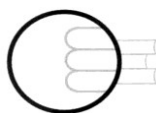


ISEI-IVEI

SANTO TOMAS AZOKA

16	A	B	C	D																								
17	A	B	C	D																								
18	A	B	C	D																								
19	A	B	C	D																								
20	A	B	C	D																								
21	A	B	C	D																								
22	<p>EGIA ALA FALTSUA? Markatu "X" batez laukitxo egokia, adibidean bezala:</p>  <table border="1"> <thead> <tr> <th></th> <th>EGIA</th> <th>FALTSUA</th> </tr> </thead> <tbody> <tr> <td>u. Santo Tomas feriaz ari dira testu honetan.</td> <td><input checked="" type="checkbox"/></td> <td><input type="checkbox"/></td> </tr> <tr> <td>a) San Martin egunean ordaintzen zen arren lurraren errenta, Santo Tomas egunera arte luzatu ohi zen.</td> <td><input type="checkbox"/></td> <td><input type="checkbox"/></td> </tr> <tr> <td>b) Santo Tomas eguna urteen arabera aldatu egiten da, Aste Santua bezala.</td> <td><input type="checkbox"/></td> <td><input type="checkbox"/></td> </tr> <tr> <td>c) Abenduaren 21ean da Santo Tomas eta egun horretan egiten da feria.</td> <td><input type="checkbox"/></td> <td><input type="checkbox"/></td> </tr> <tr> <td>d) Santo Tomas egunean baserritarrak hirira joaten ziren nagusiarri lur-sailen errentak ordaintzera.</td> <td><input type="checkbox"/></td> <td><input type="checkbox"/></td> </tr> <tr> <td>e) Santo Tomas egunean produktuen salerosketa egiten zen.</td> <td><input type="checkbox"/></td> <td><input type="checkbox"/></td> </tr> <tr> <td>f) Feriak gaur egunera arte iraun du baserritarrek tradizio zaharra mantendu baitute.</td> <td><input type="checkbox"/></td> <td><input type="checkbox"/></td> </tr> </tbody> </table>					EGIA	FALTSUA	u. Santo Tomas feriaz ari dira testu honetan.	<input checked="" type="checkbox"/>	<input type="checkbox"/>	a) San Martin egunean ordaintzen zen arren lurraren errenta, Santo Tomas egunera arte luzatu ohi zen.	<input type="checkbox"/>	<input type="checkbox"/>	b) Santo Tomas eguna urteen arabera aldatu egiten da, Aste Santua bezala.	<input type="checkbox"/>	<input type="checkbox"/>	c) Abenduaren 21ean da Santo Tomas eta egun horretan egiten da feria.	<input type="checkbox"/>	<input type="checkbox"/>	d) Santo Tomas egunean baserritarrak hirira joaten ziren nagusiarri lur-sailen errentak ordaintzera.	<input type="checkbox"/>	<input type="checkbox"/>	e) Santo Tomas egunean produktuen salerosketa egiten zen.	<input type="checkbox"/>	<input type="checkbox"/>	f) Feriak gaur egunera arte iraun du baserritarrek tradizio zaharra mantendu baitute.	<input type="checkbox"/>	<input type="checkbox"/>
	EGIA	FALTSUA																										
u. Santo Tomas feriaz ari dira testu honetan.	<input checked="" type="checkbox"/>	<input type="checkbox"/>																										
a) San Martin egunean ordaintzen zen arren lurraren errenta, Santo Tomas egunera arte luzatu ohi zen.	<input type="checkbox"/>	<input type="checkbox"/>																										
b) Santo Tomas eguna urteen arabera aldatu egiten da, Aste Santua bezala.	<input type="checkbox"/>	<input type="checkbox"/>																										
c) Abenduaren 21ean da Santo Tomas eta egun horretan egiten da feria.	<input type="checkbox"/>	<input type="checkbox"/>																										
d) Santo Tomas egunean baserritarrak hirira joaten ziren nagusiarri lur-sailen errentak ordaintzera.	<input type="checkbox"/>	<input type="checkbox"/>																										
e) Santo Tomas egunean produktuen salerosketa egiten zen.	<input type="checkbox"/>	<input type="checkbox"/>																										
f) Feriak gaur egunera arte iraun du baserritarrek tradizio zaharra mantendu baitute.	<input type="checkbox"/>	<input type="checkbox"/>																										
23	A	B	C	D																								

GRACIAS POR TU ESFUERZO



ISEI-IVEI